

تاکستانه اول دبستان




این کتاب در بخش
ساماندهی منابع
آموزشی و تربیتی
بررسی و تایید شده است

معرفی کتاب:

samanketab.roshd.ir

کتاب مصور حاضر به اهمیت پیوستگی آموزشی در طول تابستان اشاره کرده است. به همین روی تمرین‌هایی از درس‌های پایه اول ابتدایی دارد تا مهارت‌های خواندن و نوشتن دانش‌آموزان کلاس اولی تقویت شود. به اذعان مولف در کنار مفاهیم درسی و تمرین‌ها و تقویت خلاقیت آن‌ها، تعدادی مطالب طنز و شادی‌بخش با نام «ایستگاه خنده» نیز درج شده است. تمرین‌های کتاب شامل خط کشیدن دور اعداد، رنگ کردن تصویرهای مورد نظر، تکمیل الگو، نقاشی، نوشتن نام تصویر، شناخت حروف و املاهای تصویری و... است. خواندن تقریبی ساعت، حل جدول و طرز تهیه پاپ کیک چوبی از دیگر ویژگی‌های این کتاب است.



نام مجموعه: تابستانه

سال چاپ: ۱۴۰۰

ناشر: تاک کتاب

مؤلف: بلبل تربتی، فاطمه

قطع کتاب: رحلی

نوع کتاب: کمک درسی

مجموع صفحات: ۷۲ص.

شابک: ۹۷۸۶۲۲۹۹۰۹۷۰۶

دوره و درس: ابتدایی فارسی

پایه: اول

مخاطب: دانش‌آموز


کلیدواژه: آموزش ابتدایی

آموزش ریاضی آموزش

زبان فارسی

نتیجه داوری کتاب: مناسب

درجه بندی: درجه ۳





- ✓ شامل تمامی دروس
- ✓ جبران عقب ماندگی های دوران کرونا
- ✓ آمادگی دانش آموز برای سال تحصیلی جدید
- ✓ لوح های جشن و پایان دوره سه بعدی و معمولی



تاکستانه های پیش تا پنجم ۵۹ هزار تومان
 تاکستانه های ۷۲ صفحه ای ۴۶ هزار تومان
 تاکستانه ششم ۵۰ هزار تومان
 فیتیله های تابستان ۵۴ هزار تومان



نمایندگی شهرستان




نمایندگی شهرستان :





جدول را کامل کن.



۱- هفت تا از ده کمتر.

۲- چهار بسته ده تایی.

۳- دو تا بیشتر از هجده ام.

۴- یکی و ده تایی ام مثل هم است و از بیست کمتر.

۵- ده تایی ام شش و یکی ام نه است.

هر شکل را به جمع و تفریق خودش وصل کن.

$$۸ - ۲ =$$

$$۷ - ۳ =$$

$$۹ - ۳ =$$

$$۸ - ۴ =$$



$$۴ + ۳ =$$

$$۶ + ۲ =$$

$$۴ + ۴ =$$

$$۶ + ۳ =$$

جمع های عدد ۵ را رنگ بزن.



$$۵ + ۰$$

$$۲ + ۲$$

$$۴ + ۱$$

$$۱ + ۴$$

$$۴ + ۲$$

$$۳ + ۲$$

$$۳ + ۳$$



$$۲ + ۳$$

$$۰ + ۵$$



اول دبستان



تابستانه ناگفته





دور عدد مناسب خط بکش.

۱۰	۱۰	۱۰	۵۳
۱۰	۱۰		۳۵
۱۰	۱۰		۵۴

۱۰	۱۰	۱۰	۵
۱۰	۱۰		۵۰
۱۰	۱۰		۵۱

۱۰	۱۰	۱۰		۶۱
۱۰	۱۰	۱۰		۶۳
۱۰	۱۰	۱۰		۶۴

۱۰	۱۰	۱۰		۶۲
۱۰	۱۰	۱۰		۲۶
۱۰	۱۰	۱۰		۱۶

۱۰	۱۰		۳۵
۱۰			۵۳
۱۰			۳۷


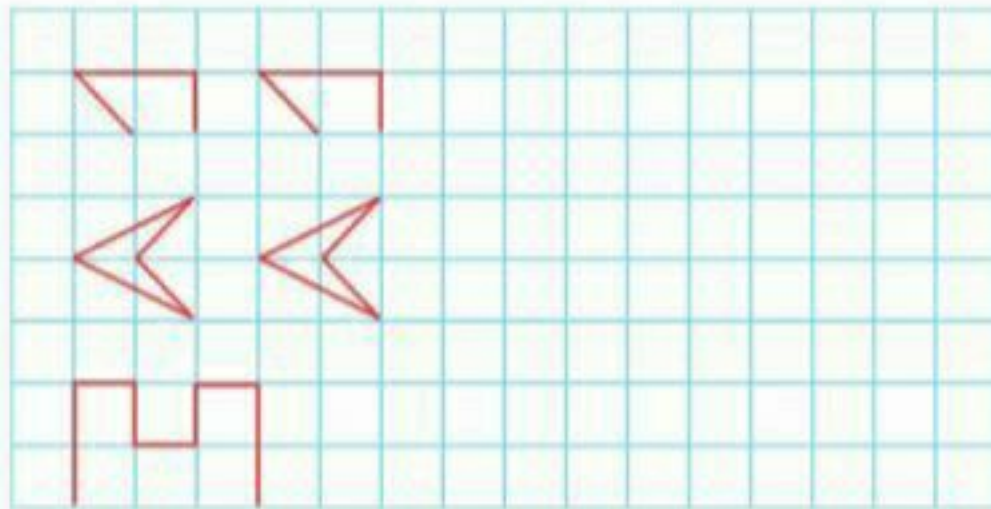
۱۰		۱۸
		۲۷
		۱۷

۱۰	۱۰		۴۲
۱۰	۱۰		۴۴
۱۰	۱۰		۴۳

۱۰	۱۰		۷۲
			۲۷
			۲۸

			۹
			۱۹
			۲۹

الگو را ادامه بده و شکلی که در هر الگو تکرار می شود را بکش.



ایستگاه خنده

پدر: فرزندم فردا ۶ ساله می شوی. باید یک کیک و شش شمع بخرم.
فرزند: پدر جان، نمی شود شش کیک و یک شمع بخری؟



اول دبستان



تایستانه ناکسکه





در تصاویر زیر موجودات زنده را رنگ بزن.



با توجه به نوع حرکت هر حیوان، تصاویر را به هم وصل کن.



کلمه های هر قسمت را بخوان و بخش مشترک آنها را پیدا کن و بنویس.



داستان

بوستان



آرمان

سامان



تابان

درمان



اول دبستان



تابستانه





با توجه به علامت، شکل سمت راست را کامل و عدد مناسب را بنویس.



..... >



..... <



..... <



..... <



..... >



..... =

برای این شکل ها تفریق بنویس.



..... - =



..... - =



..... - =



..... - =



..... - =



..... - =

در خانه های خالی عدد مناسب بنویس.



۳			
۴			
۵	→ +۴		→ +۳
۱			
۲			

۹	
۱۲	
۸	→ -۴
۶	
۴	



اول دبستان



تابستانه یکم






بازی

ماز آسمانی

یک راه بین این جدول پیدا کن. از یک شکل به شکل بعدی حرکت کن. می توانی به سمت بالا، پایین، چپ یا راست حرکت کنی.
اما باید به این ترتیب روی شکل ها بروی: خورشید، ماه، ستاره



ایستگاه خنده



معلم: بنویس صابون
شاگرد روی تخته نوشت صابون.
معلم: بین عزیزم صابون با «ص» است نه با «س»!
شاگرد: خانم فرقی نمی کند، نگران نباشید، این هم کف می کند.



اول دبستان



تابستانه پاکستان





با شنیدن کلمه های زیر یاد چه چیزهایی می افتی؟ بنویس.

دریا

مدرسه

جمع کن



$$\dots + \dots + \dots = \dots$$



$$\dots + \dots + \dots = \dots$$



$$\dots + \dots + \dots = \dots$$



$$\dots + \dots + \dots = \dots$$

با توجه به جواب هر تمرین کلمه ای را بنویس که تعداد نقطه های آن با حاصل برابر باشد.

 $9 - 9 = \dots$

 $7 - 4 = \dots$

 $3 + 2 = \dots$

 $8 - 3 = \dots$

 $8 - 6 = \dots$

 $2 + 6 = \dots$

 $6 - 5 = \dots$

 $9 - 6 = \dots$




اول دبستان



تابستانه باستانه





جواب کدام داستان با جمع و کدام با تفریق به دست می آید؟ به جای اینکه جواب را بگویی علامت + یا - را در  بگذار.

۲ تا پرستو بودند. ۴ تایی دیگر آمدند.
حالا چند پرستو هستند؟

درختی ۶ سیب داشت.
۳ تا از آن ها را چیدیم.
حالا چند سیب داریم؟

۵ کودک بازی می کردند.
۳ تا از آن ها رفتند.
چند کودک بازی می کنند؟

۶ اردک شنا می کنند.
۳ تایی دیگر در آب پریدند.
حالا چند اردک در آب هستند؟

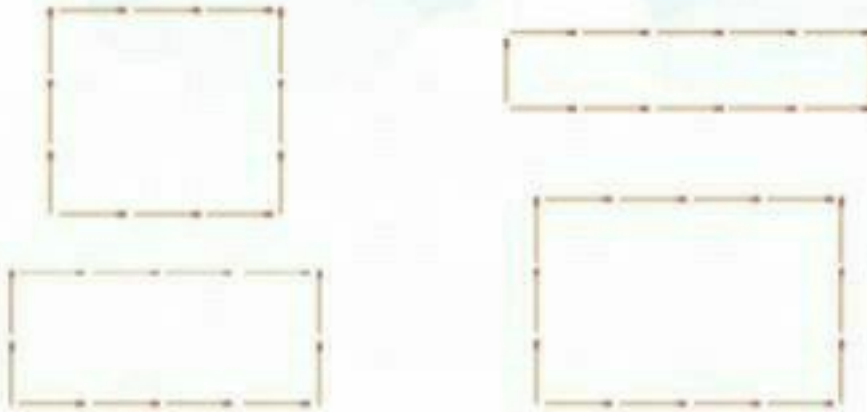
امین ۷ مداد رنگی داشت.
۳ تایی دیگر خرید. او چند مداد رنگی دارد؟

علی دیروز ۵ کتاب خوانده بود.
امروز ۴ کتاب دیگر خواند.
او چند کتاب خوانده است؟





امین با چوب کبریت، مربع و مستطیل درست می کرد. او می خواست هر شکل را با ۱۲ چوب کبریت بسازد. در کدام شکل اشتباه کرده است؟ (آن شکل را رنگ بزن)



با شکل های بالا و پایین جمع بنویس. (مانند نمونه)



$$4 + 2 = 6$$



$$3 + 5 = 8$$



$$8 + 2 = 10$$



$$4 + 5 = 9$$



اول دبستان



تایستانه





با مخالف کلمه های زیر جمله بنویس.

کثیف

خوشحال

غمگین

پایان

نقطه های این متن را بگذار و آن را بخوان.

نام خواهر من مریم است. او هنوز مدرسه نمی رود. مریم دوست دارد هر چه رود در حیاط و بوسه را نادانگردد. او وقتی می خواهد بخواند، مادرم برای او کتاب داستان می خواند.

ایستگاه خنده



پدر بزرگ از نوه اش پرسید: چرا روی خیابان پل می زنی؟
نوه ی پدر بزرگ گفت: معلوم است پدر بزرگ ا برای اینکه ماشین ها از زرش رد شوند



اول دبستان



تابستانه نامت





خرچنگ که از شنیدن این حرف ها جا خورده بود بین ماهی ها رفت و جریان را برای آن ها تعریف کرد. ماهی ها که ناراحت شده بودند به همراه خرچنگ پیش مرغ ماهیخوار رفتند تا شاید راهی برای نجات آنها پیدا کند. مرغ ماهیخوار به آنها گفت: «من فکری کردم. در این نزدیکی چشمه ی قشنگ و زیبایی هست که پر آب و سرسبز است» شما باید به آنجا بروید.»

خرچنگ گفت: «ولی ما که نمی توانیم از آب بیرون بیاییم. چطور به آنجا برویم؟»
مرغ ماهیخوار کمی فکر کرد و گفت: «من می توانم شما را یکی یکی به آنجا ببرم.»
ماهی ها که خوشحال شده بودند قبول کردند.

از فردای آن روز ماهی ها همه آماده شدند تا به چشمه ی زیبا بروند و هر کس تلاش می کرد که زودتر به آنجا برسد. مرغ ماهیخوار هم هر روز کنار چشمه می آمد و ماهی ها را یکی یکی سوار منقارش می کرد و به طرف چشمه ی زیبا می رفت. اما در میان راه، پشت یک کوه، به بهانه ی خستگی، روی زمین می نشست و دور از چشم دیگران ماهی ها را می خورد. ماهی ها تازه می فهمیدند که چشمه ی زیبا وجود ندارد و همه فریب مرغ ماهیخوار را خورده اند. خرچنگ یک روز به مرغ ماهیخوار گفت: «ای مرغ مهربان، از اینکه این همه ماهی را به تنهایی به چشمه می بری ممنونم. اگر ممکن است من را هم با خودت ببر.» (داستان ادامه دارد)



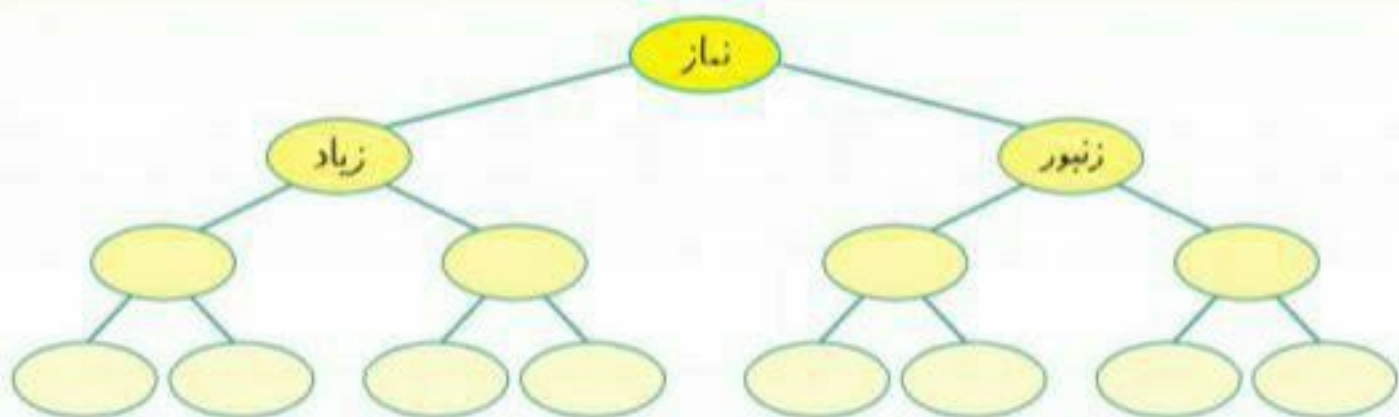


عزیزم نشانه ها را طوری در جدول قرار بده که در هر ردیف (افقی و عمودی) هر نشانه فقط یک بار بیاید.

	س		م	
ک				
	ط			
م		ط	د	س
			س	



با نشانه ی آخر هر کلمه ، دو کلمه ی جدید بنویس . (مانند نمونه)



عزیزم کلمات هر گروه را به وسیله ی رنگ زدن جدا کن.

خواندن

خواهر

خواب

نخواندم

تختخواب

خواهرش

خواندن

خواهر

می خوابم

خواهرت

خوانده

می خوابید

بخوان



اول دبستان



تابستانه باکلاس

